



**GABARITO**


**UNESP**

**2024** 2ª FASE 1º DIA


**CORREÇÃO DE PROVA** **AO VIVO**


# FALE CONOSCO




 @profpriscilalima

 Professora Priscila Lima


 @profpriscilalima

 Professora Priscila Lima

 /Estrategiavest

 /estrategiavestibulares

 /EstratégiaVestibulares

 /estrategiavestibulares

 @estrategiavestibulares

 @estrategiavestibulares

**CUPOM: PRISCILALIMA20**

## UNIVERSIDADE ESTADUAL PAULISTA – UNESP (2024)

A Organização das Nações Unidas (ONU) confirmou, por meio de projeções, que a Índia ultrapassou a China em tamanho de população no mês de abril de 2023. Com isso, a Índia se tornou o país mais populoso do planeta e tirou a preeminência chinesa que durava desde 1950, quando começou a contagem pela ONU. A marca de se tornar o país mais populoso do mundo também coloca questões para o futuro indiano. A principal delas é se o país conseguirá repetir o sucesso econômico chinês nas últimas décadas, que, impulsionado por uma mão de obra abundante e barata, hoje, segundo analistas, coloca Pequim como uma superpotência em ascensão. Ainda assim, a Índia deve se beneficiar do que é chamado de “bônus demográfico”.

([www.estadao.com.br](http://www.estadao.com.br), 29.04.2023. Adaptado.)

## UNIVERSIDADE ESTADUAL PAULISTA – UNESP (2024)

a) Identifique os dois conceitos que tratam do crescimento de uma população.

**Crescimento vegetativo e Crescimento horizontal**

b) Considerando o perfil demográfico indiano, explique o que é “bônus demográfico” e cite um desafio socioeconômico a ser administrado pela Índia diante dessa condição

**O conceito de *bônus demográfico* indica um momento em que a população em idade ativa é maior que a população “sustentada”, ou seja, temos uma população jovem onde predomina o grupo etário entre 15 e 64 anos. Tal realidade é encontrada na Índia. Um desafio para tal país é conseguir gerar empregos para aproveitar a disponibilidade da mão de obra, e assim, crescer economicamente.**

As chuvas torrenciais, as mais intensas de que se tem notícia no litoral norte de São Paulo, não são as responsáveis pela morte de 65 pessoas, por mais de 4 mil desabrigados e pela destruição de casas, que ocorreram com os deslizamentos de encostas em fevereiro de 2023. Não podemos lamentar que a mãe natureza nos castiga e que só nos resta chorar nossos mortos e nossas perdas. Temos, sim, de nos indignar com as políticas públicas que levaram a essa situação e apontar seus responsáveis. E, com toda urgência, tomar medidas concretas que reduzam os impactos do desastre e permitam enfrentar a questão central: a propriedade da terra. Primeiro foram as casas de veraneio e, nos últimos anos, os condomínios que se multiplicaram, adensaram a ocupação desses territórios e expulsaram da orla da praia os caiçaras. Os serviços demandados — jardineiro, piscineiro, caseiro, faxineira, segurança, babá, cozinheira, manutenção das casas — acabaram atraindo trabalhadores de baixa renda para a região, que se somaram aos caiçaras e ocuparam as encostas dos morros, esses que desabaram. Não há opção. Os preços da terra e dos aluguéis expulsam a população de baixa renda para as encostas.

(Silvio C. Bava. “Com toda urgência”. <https://diplomatie.org.br>, 02.03.2023. Adaptado.)

## UNIVERSIDADE ESTADUAL PAULISTA – UNESP (2024)

a) Sob o ponto de vista do poder público, apresente duas medidas que podem evitar desastres como o problematizado no excerto.

**Considerando o problema da ocupação de encostas, destacamos políticas públicas de habitação que reduzam a segregação socioespacial e evitem a fixação de famílias em tais áreas de risco. E uma segunda medida seria o monitoramento dos riscos.**

b) Descreva como ocorre a distribuição da propriedade da terra no Brasil e como a especulação imobiliária determina a localização das moradias das pessoas de baixa renda.

**Desde o período colonial, o Brasil é marcado por uma concentração de terra, assim, grandes extensões ficam concentradas sob domínio de poucas pessoas. Assim, a especulação imobiliária, fenômeno associado ao valor da terra, faz com que pessoas que podem pagar por áreas com melhor infraestrutura usufrua de tais condições, mas por outro lado, aquelas pessoas que são mais pobres passam a ocupar áreas sem estrutura e muitas vezes de risco.**

Analise o mapa.

Brasil: domínios de natureza



(www.geoambientaljr.com. Adaptado.)

a) Apresente duas características naturais que foram utilizadas para definir as regiões observadas no mapa.

### Clima e vegetação

b) Descreva uma característica natural típica dos mares de morros e cite uma das causas que explicam a degradação desse domínio.

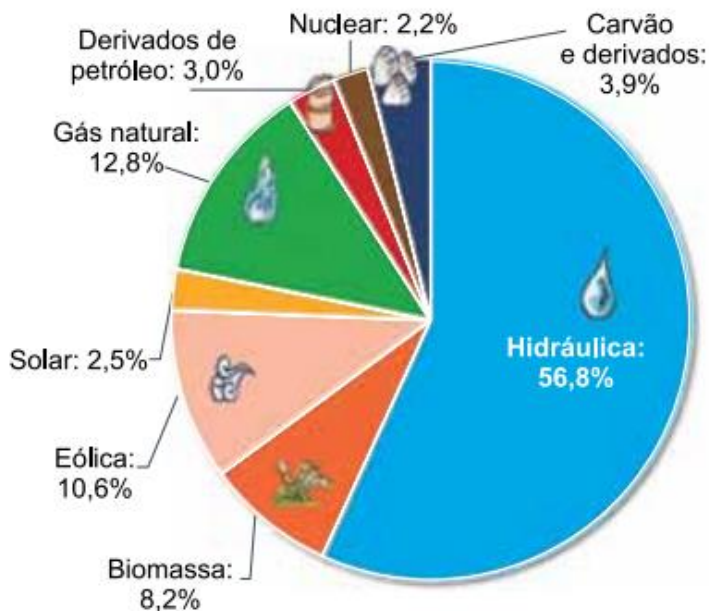
A vegetação disposta nos Mares de Morro é a Mata Atlântica, uma floresta pluvial, ou seja, com predomínio do estrato arbóreo e adaptada ao elevado volume de chuvas, o que concentra espécies latifoliadas e perenifólias.

Quando pensamos uma causa para a degradação desse domínio podemos destacar o avanço da urbanização.

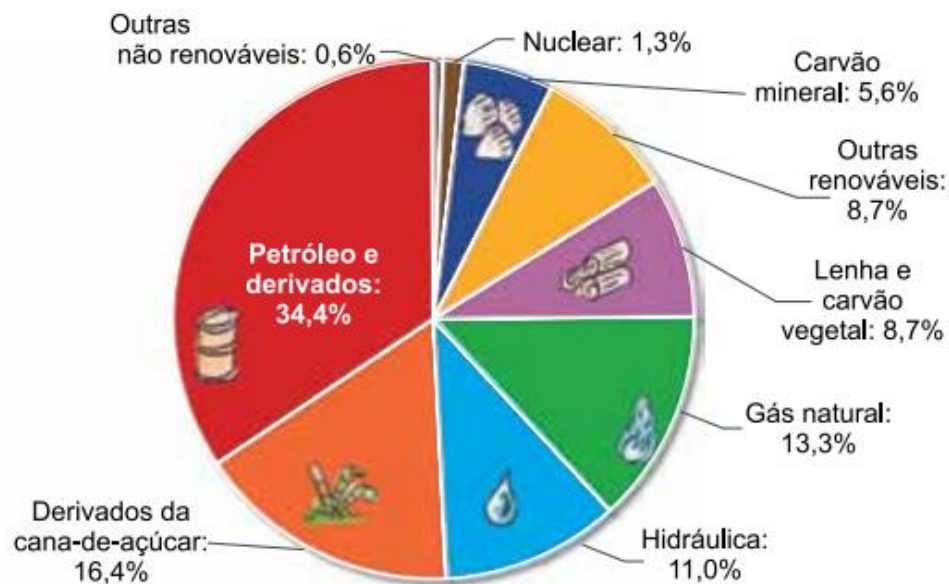
Examine os gráficos.

Brasil, 2021

Matriz elétrica



Matriz energética





## UNIVERSIDADE ESTADUAL PAULISTA – UNESP (2024)

a) Defina matriz elétrica e matriz energética.


**Matriz elétrica considera as fontes associadas à produção de eletricidade. Por outro lado, uma matriz energética considera o cenário geral de geração de energia.**

b) Considerando o gráfico referente à matriz elétrica brasileira, apresente duas motivações, uma natural e outra histórica, para a fonte de energia de maior percentual.


**Quando observamos a matriz elétrica, o grande destaque é a hidreletricidade. Pensando os aspectos naturais, destacamos o grande volume de águas fluviais e o predomínio de rios de planaltos, o que facilita a geração de energia elétrica. Entretanto, também há motivações históricas, como a necessidade de ampliar a produção energética durante a década de 1970, quando o mundo passava por crises com o petróleo.**

# FALE CONOSCO




 @profpriscilalima

 Professora Priscila Lima

 @profpriscilalima

 Professora Priscila Lima

 /Estrategiavest

 /estrategiavestibulares

 /EstratégiaVestibulares

 /estrategiavestibulares

 @estrategiavestibulares

 @estrategiavestibulares

**CUPOM: PRISCILALIMA20**